

Odpověz na všechny otázky, odpovědi najdeš na tabulích na stezce

1. Jak rychle běhá liška obecná?

- A) 30 km/h B) 50 km/h C) 100 km/h

2. Až kolik myší za rok je schopna liška ulovit?

- A) 100 myší B) 2500 myší C) 4000 myší

3. Kolik váží jelen evropský?

- A) 10 – 50kg B) 100 – 350kg C) 500 – 1000kg

4. Jakou rychlostí rostou parohy jelenovi evropskému?



- A) 2 cm za den B) 10 cm za den C) 2 cm za rok

5. Kolik váží srnec obecný?

- A) 17 – 35kg B) 40-70kg C) 75-150kg

6. Kolik žije v České republice srnců obecných?

7. Poznej srnce obecného



8. Jak vysokou překážku dokáže přeskočit rys ostrovid?

- A) 0,5m B) 1,5m C) 4m

9. Kolik kusů Rysa ostrovida žije v Beskydech?

- A) 20ks B) 30ks C) 40ks

10. Jakou rychlostí může běhat prase divoké?

- A) 10 km/h B) 30 km/h C) 50 km/h

11. Jak se nazývají spodní špičáky a horní špičáky u prasete divokého?

12. Jak se nazývají parohy Muflona?

- A) toulce B) špičáky C) rohy

13. Jak se jmenuje samice od Muflona?

- A) Lan B) Muflonka C) Muflonice

14. Na kolik stupňů klesne teplota Medvědovi brtníkovi v době zimního spánku

- A) 0°C B) 10°C C) 36,5°C

15. Kolik váží narozené medvídě Medvěda brtníka?




- A) 5kg B) 3kg C) 0,5kg

16. Kolik váží Tetřev hlušec?

- A) 1 kg B) 3 kg C) 5 kg

17. Jaké 4 fáze má tok Tetřeva Hlušce?

18. Poznej tetřeva.



19. Co se vyrábí z buku lesního?

20. Kolik měřil v obvodu nejširší buk lesní u nás?

- A) 500 cm B) 750 cm C) 850 cm

21. Jak dlouho roste Baobab prstnatý?

- A) 1000 let B) 1500 let C) 2000 let

22. Kolik litrů vody může zadržovat Baobab prstnatý?

- A) 80 000 litrů B) 100 000 litrů C) 120 000 litrů

23. Který druh stromu má po oloupání barevný kmen? (rainbow tree)

- A) bříza bělokorá B) blahovičnick jeřábový C) javor červený

24. Jak vysoký může být Blahovičnick jeřábový v 50 letech?

- A) 10 m B) 65 m C) 100 m

25. Který druh smrku je v ČR velmi napaden kůrovcem?

- A) omorika B) stříbrný C) ztepilý

26. Který je nejmohutnější strom světa?

- A) sekvojovec obrovský B) borovice osinatá C) cypřiš modrý

27. Jakého stáří se dožívá Sekvojovec obrovský?

- A) 1500 let B) 2700 let C) 3800 let

28. Jaký je nejvyšší strom na světě?

- A) sekvoj vždyzelená B) jalovec čínský C) baobab

29. Kolik má nejvyšší strom na světě výšku?

- A) 100 m B) 116 m C) 224 m

30. Kolik váží nejširší strom na světě?

- A) 525 tun B) 636 tun C) 747 tun

31. Jak se jmenuje nejširší strom na světě?

32. Poznej list javoru



HODNOCENÍ:

RAZÍTKO: